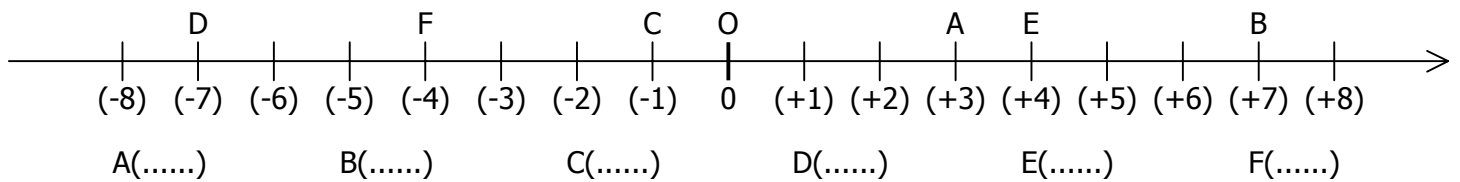
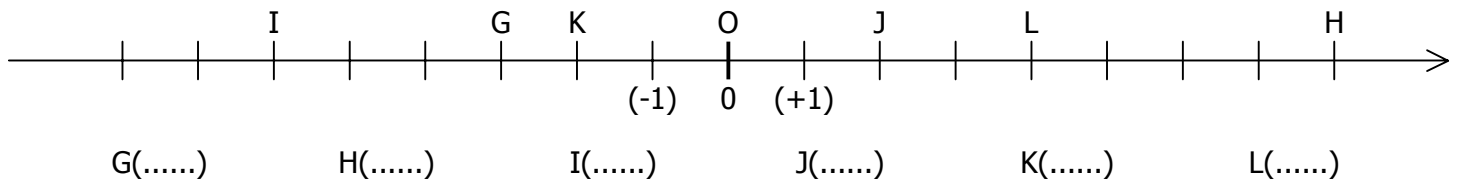


EXERCICE 1.1

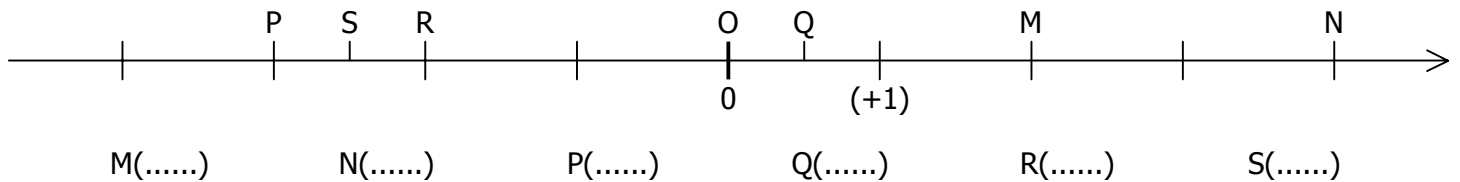
a. Lire sur cet axe les abscisses des points A, B, C, D, E et F :



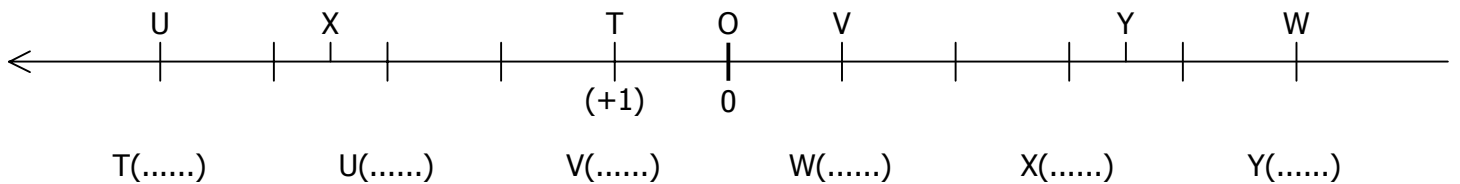
b. Lire sur cet axe les abscisses des points G, H, I, J, K et L :



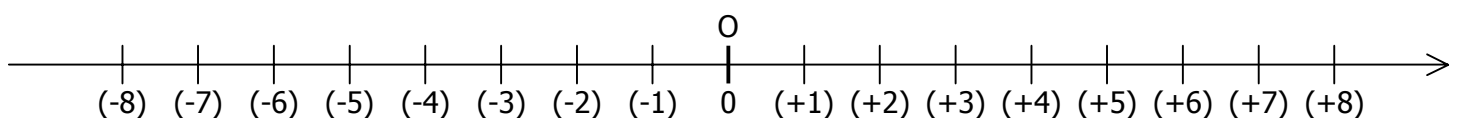
c. Lire sur cet axe les abscisses des points M, N, P, Q, R et S :



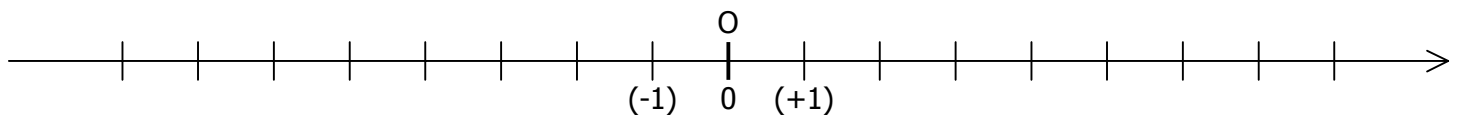
d. Lire sur cet axe les abscisses des points T, U, V, W, X et Y :

**EXERCICE 1.2**

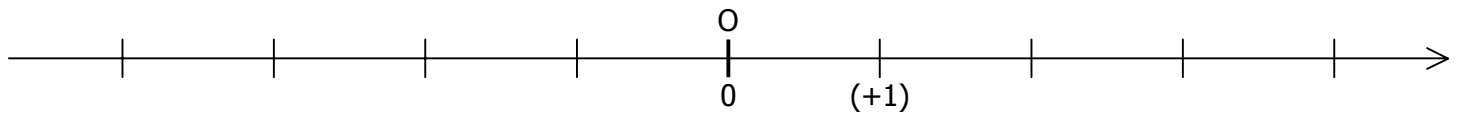
a. Placer sur cet axe les points A(+2) ; B(+5) ; C(-1) ; D(-7) ; E(+7) ; F(-8) :



b. Placer sur cet axe les points G(+3) ; H(-5) ; I(+4) ; J(-2) ; K(+8) ; L(-6) :



c. Placer sur cet axe les points M(+2) ; N(-3) ; P(+4) ; Q(-1) ; R(+2,5) ; S(-3,5) :



d. Placer sur cet axe les points T(+3) ; U(-4) ; V(+6) ; W(-6) ; X(+4,5) ; Y(-5,5) :

