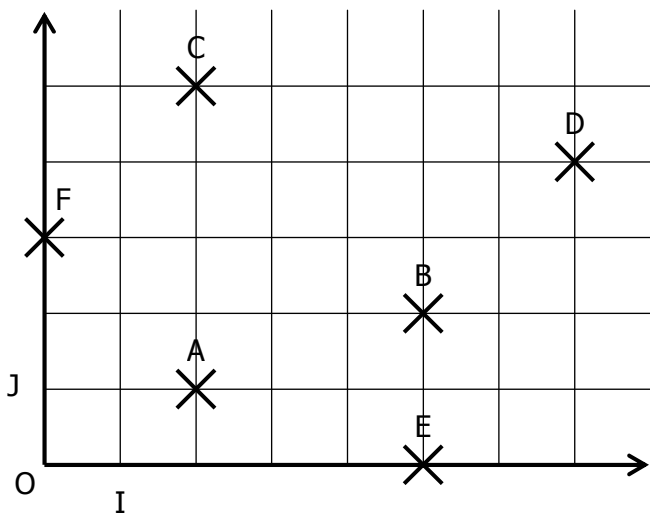


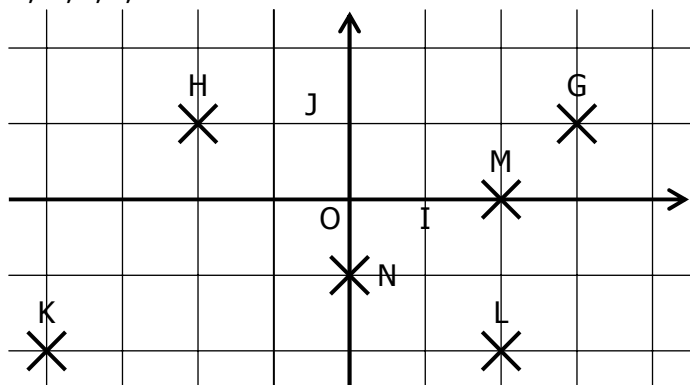
EXERCICE 1A.1

a. Lire dans ce repère les coordonnées des points A, B, C, D, E et F :



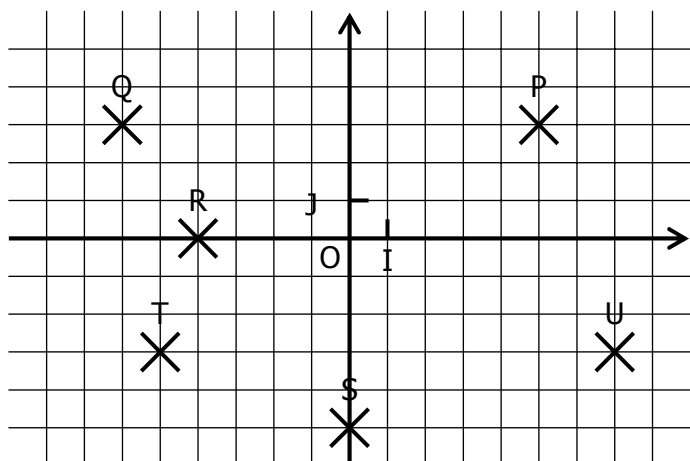
A(..... ;) B(..... ;) C(..... ;)
 D(..... ;) E(..... ;) F(..... ;)

b. Lire dans ce repère les coordonnées des points G, H, I, J, K et L :



G(..... ;) H(..... ;) K(..... ;)
 L(..... ;) M(..... ;) N(..... ;)

c. Lire dans ce repère les coordonnées des points M, N, P, Q, R et S :

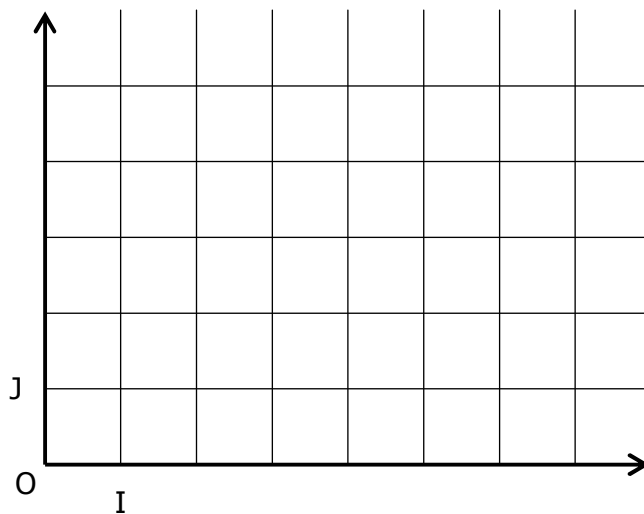


P(..... ;) Q(..... ;) R(..... ;)
 S(..... ;) T(..... ;) U(..... ;)

EXERCICE 1A.2

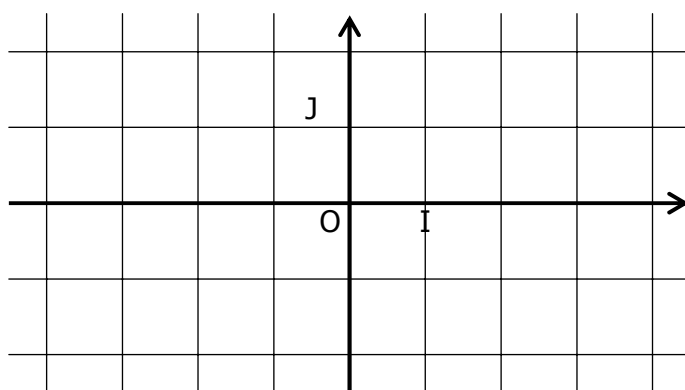
a. Placer dans ce repère les points suivants :

A(3 ; 1) B(5 ; 2) C(1 ; 3)
 D(7 ; 5) E(4 ; 0) F(0 ; 5)



b. Placer dans ce repère les points suivants :

G(3 ; 1) H(-2 ; 1) K(-4 ; -2)
 L(0 ; -2) M(3 ; 0) N(1,5 ; -2,5)



c. Placer dans ce repère les points suivants :

P(4 ; 5) Q(-7 ; 2) R(-8 ; -3)
 S(0 ; -3) T(5 ; -1) U(-6 ; 2)

