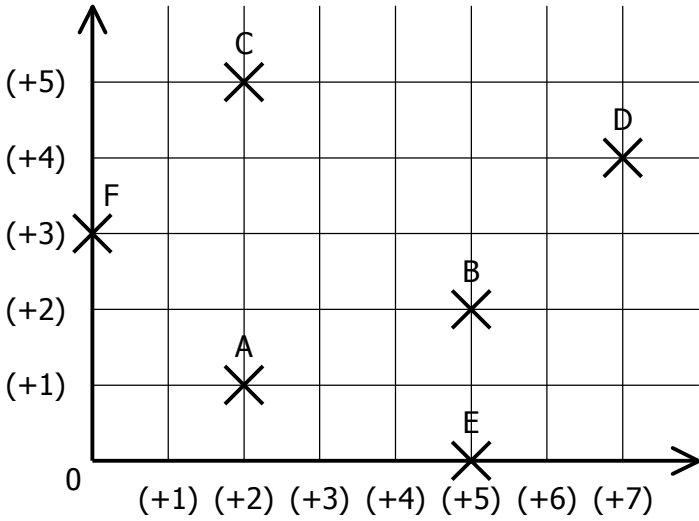


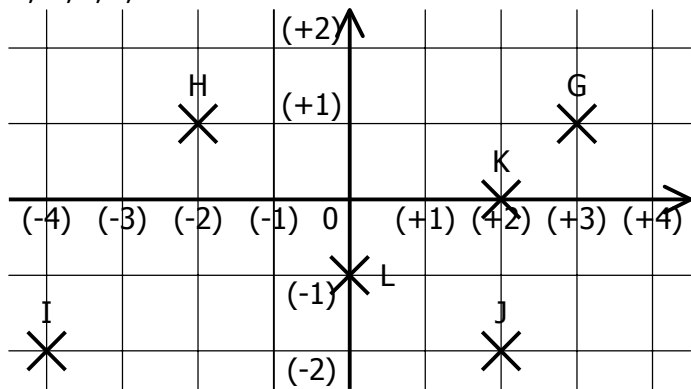
EXERCICE 2A.1

a. Lire dans ce repère les coordonnées des points A, B, C, D, E et F :



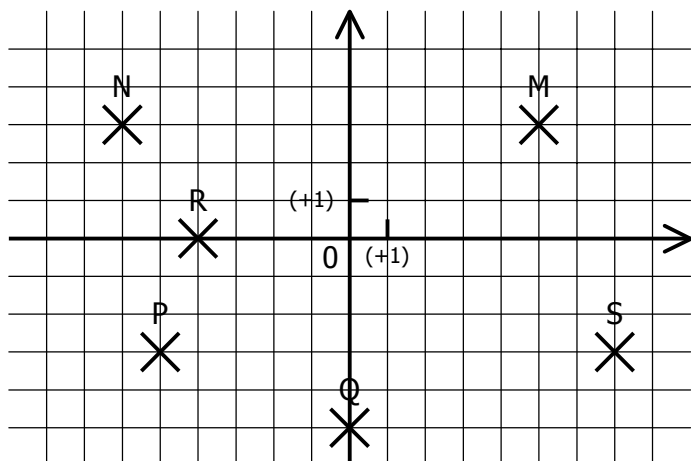
A(..... ;) B(..... ;) C(..... ;)
 D(..... ;) E(..... ;) F(..... ;)

b. Lire dans ce repère les coordonnées des points G, H, I, J, K et L :



G(..... ;) H(..... ;) I(..... ;)
 J(..... ;) K(..... ;) L(..... ;)

c. Lire dans ce repère les coordonnées des points M, N, P, Q, R et S :

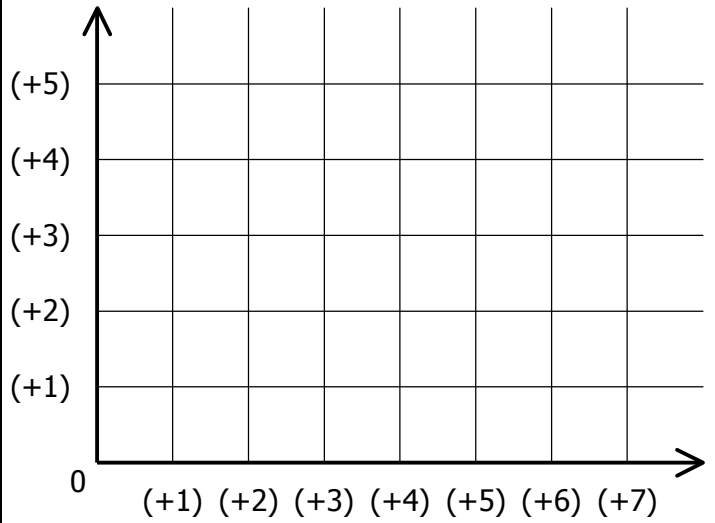


M(..... ;) N(..... ;) P(..... ;)
 Q(..... ;) R(..... ;) S(..... ;)

EXERCICE 2A.2


a. Placer dans ce repère les points suivants :

A(+3 ; +1) B(+5 ; +2) C(+1 ; +3)
 D(+7 ; +5) E(+4 ; 0) F(0 ; +5)



b. Placer dans ce repère les points suivants :

G(+3 ; +1) H(-2 ; +1) I(-4 ; -2)
 J(0 ; -2) K(+3 ; 0) L(+1,5 ; -2,5)



c. Placer dans ce repère les points suivants :

M(+4 ; +5) N(-7 ; +2) P(-8 ; -3)
 Q(0 ; -3) R(+5 ; -1) S(-6 ; +2)

