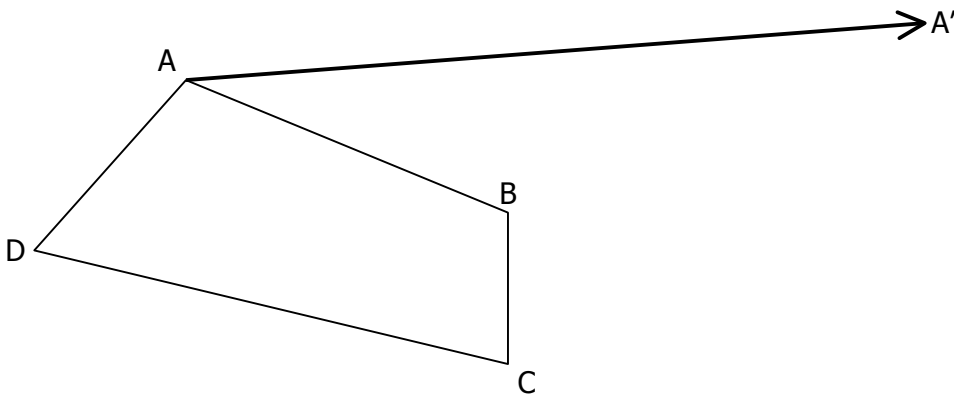
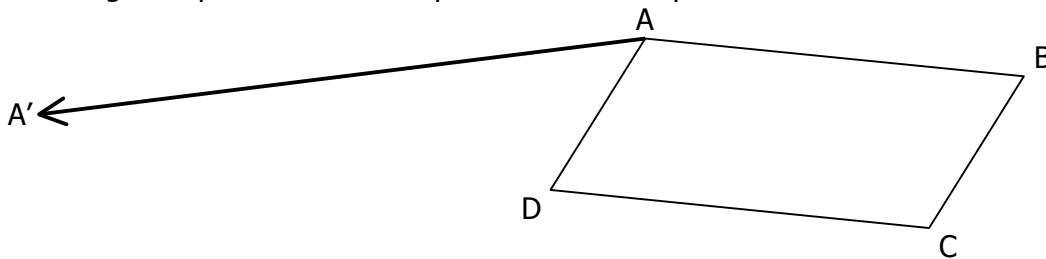


**ACTIVITÉ 5.1**

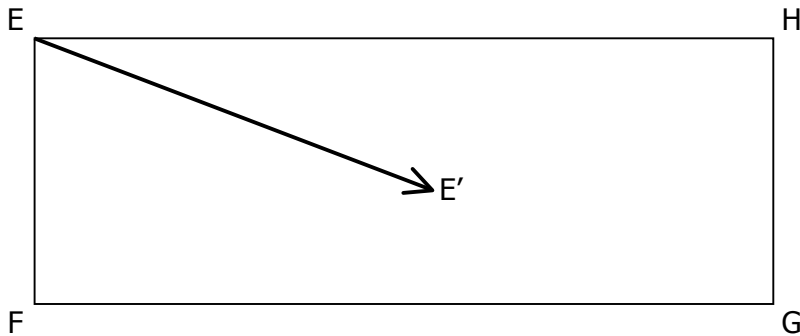
Construire à l'aide des instruments de géométrie les points  $B'$ ,  $C'$  et  $D'$  images des points  $B$ ,  $C$  et  $D$  par la translation qui transforme  $A$  en  $A'$ .

**ACTIVITÉ 5.2**

**a.** Construire l'image du quadrilatère  $ABCD$  par la translation qui transforme  $A$  en  $A'$ .



**b.** Construire l'image du quadrilatère  $EFGH$  par la translation qui transforme  $E$  en  $E'$ .



**c.** Construire l'image du quadrilatère  $IJKL$  par la translation qui transforme  $M$  en  $M'$ .

