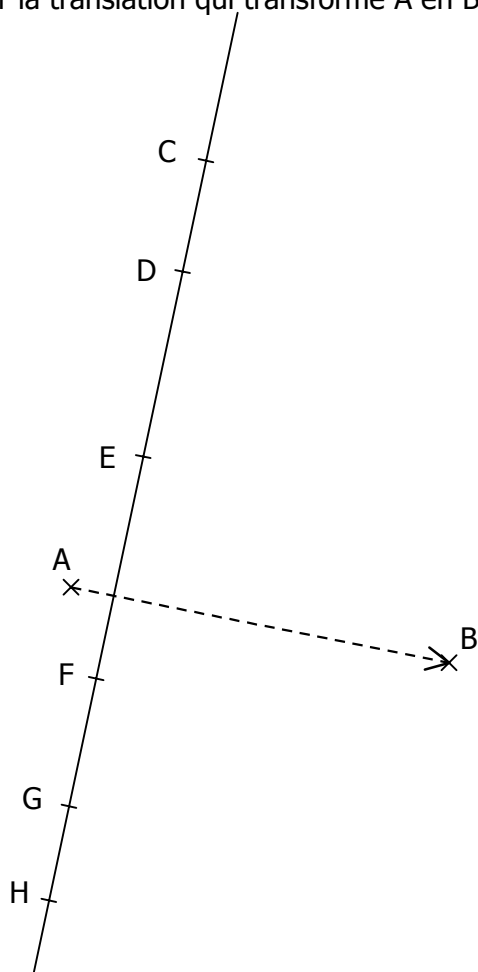
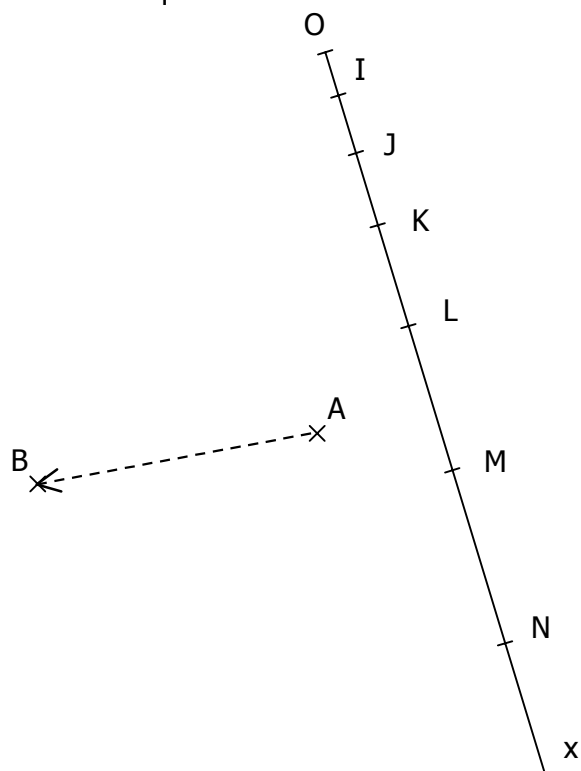


ACTIVITÉ 4.1

Construire les images des points C, D, E, F, G et H par la translation qui transforme A en B.

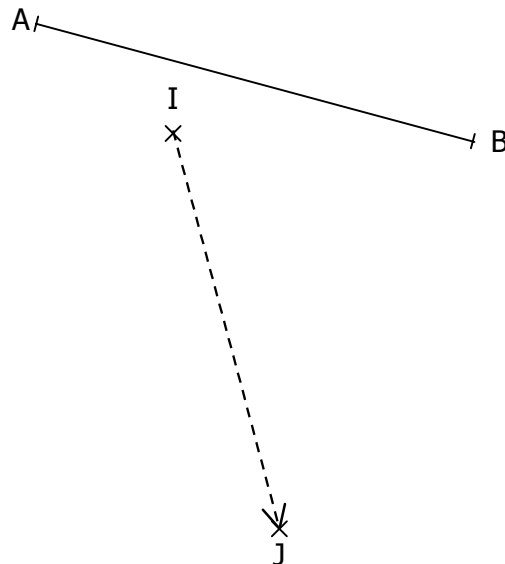
**ACTIVITÉ 4.2**

Construire les images des points O, I, J, K, L, M et N par la translation qui transforme A en B.

**ACTIVITÉ 4.3**

a. Construire les images des points A et B par la translation qui transforme I en J.

b. Placer le milieu M du segment [AB] puis construire son image par la translation qui transforme I en J.

**ACTIVITÉ 4.4**

a. Construire l'image des points R, S, T, U et V par la translation qui transforme A en B.

b. Construire l'image du point O par la translation qui transforme A en B puis tracer le cercle ayant pour centre ce point et pour rayon 3 cm.

