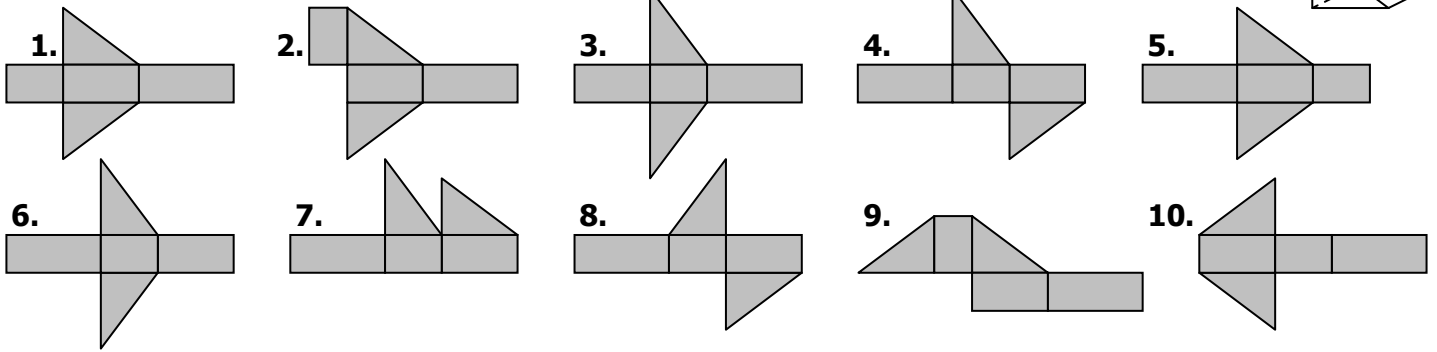
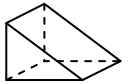


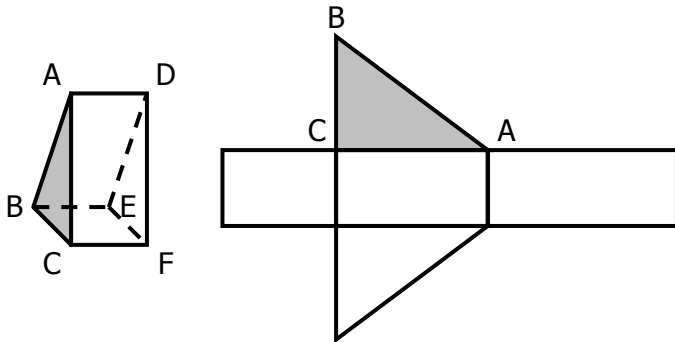
EXERCICE 3A.1

Parmi tous ces patrons, quels sont ceux qui permettent de construire le prisme ci-contre :

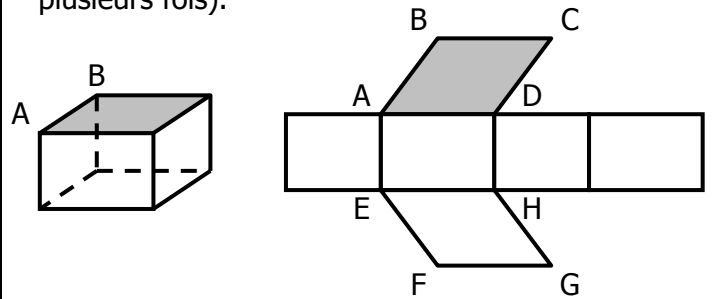


EXERCICE 3A.2

a. Placer les points A, B, C, D, E et F sur le patron (certains points apparaissent plusieurs fois).

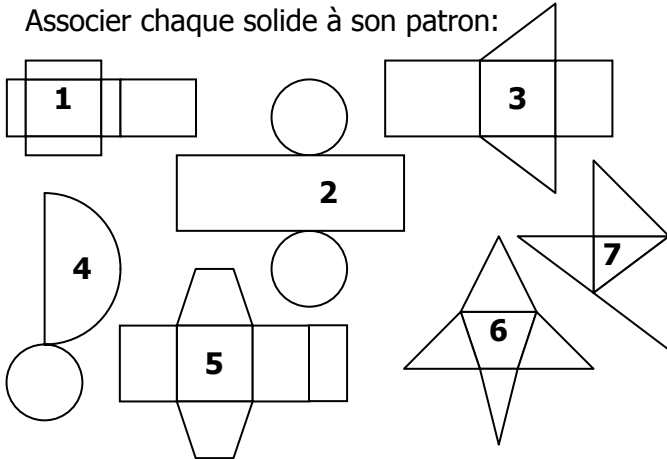


b. Placer les points A, B, C, D, E, F, G et H sur le patron et sur le solide (certains points apparaissent plusieurs fois).

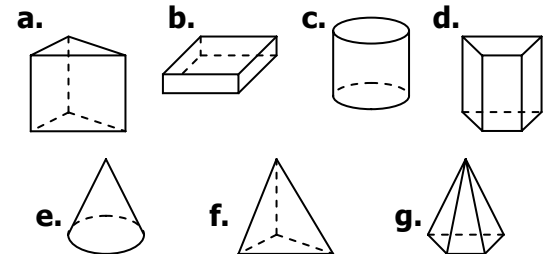


EXERCICE 3A.3

Associer chaque solide à son patron :

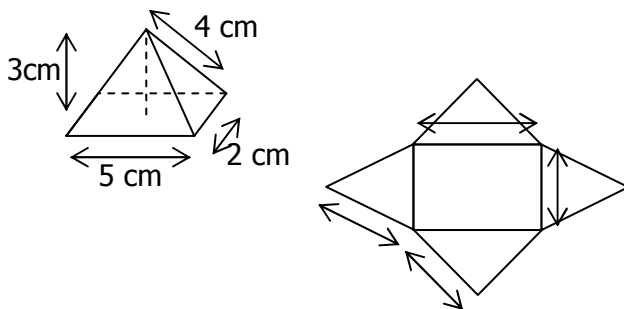


Patron	Solide
1	
2	
3	
4	
5	
6	
7	



EXERCICE 3A.4

a. Voici une pyramide et son patron. Indiquer les dimensions manquantes :



b. Voici une pyramide et son patron. Indiquer les dimensions manquantes :

